

# DESCARGAS GRATUITAS

GRADO

5

*Sociales*



**CON LA SIGUIENTE INFORMACIÓN  
RESPONDE LAS PREGUNTAS 1 Y 2**



(Fuente: [http://www.elcolombiano.com/BancoConocimiento/P/puente\\_de\\_la\\_calle\\_4sur\\_una\\_mirada\\_aerea/puente\\_de\\_la\\_calle\\_4sur\\_una\\_mirada\\_aerea.asp](http://www.elcolombiano.com/BancoConocimiento/P/puente_de_la_calle_4sur_una_mirada_aerea/puente_de_la_calle_4sur_una_mirada_aerea.asp)).

- 1** Las zonas urbanas se definen por la distribución del espacio y el tipo de actividades que se realizan en él. En la fotografía de la ciudad de Medellín se destacan
- A. los servicios públicos que se prestan en la ciudad.
  - B. algunas redes de vías para el tránsito vehicular.
  - C. los centros comerciales más importantes.
  - D. algunos tipos de actividades comerciales.
- 2** En los espacios urbanos existen elementos naturales. Un elemento natural que se aprecia en la imagen hace referencia a
- A. las zonas comerciales.
  - B. los edificios.
  - C. las industrias.
  - D. los árboles.

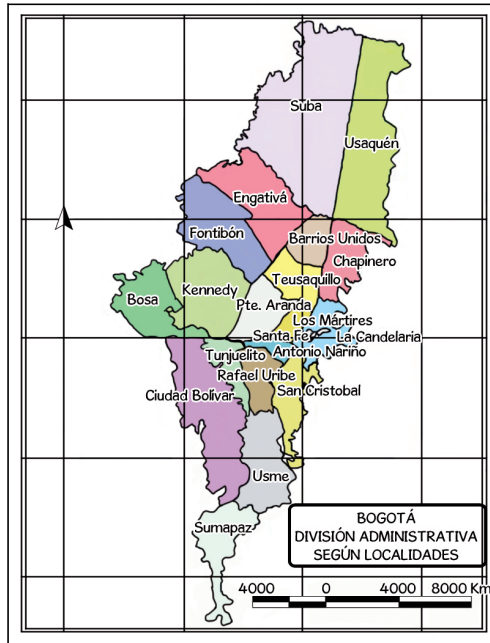
- 3** El General Juan Bautista Gutiérrez de Piñeres pone en ejecución la Real Orden del 17 de agosto de 1780, “con motivo de las urgencias de la guerra (entre España e Inglaterra), con lo cual se aumenta en 2 reales cada libra de tabaco y otros 2 al azumbre de aguardiente (medida de líquidos)”.

(Fuente: <http://www.banrepcultural.org/biaavirtual/revistas/credencial/diciembre2009/comuneros.htm>).

Esta decisión Real, provocó en el Nuevo Reino de Granada


- A. el levantamiento conocido como la Revolución de los Comuneros.
- B. la reorganización de los impuestos que pagaban los españoles.
- C. la formación de un gobierno popular que cobraba los impuestos.
- D. el cambio de las monedas hechas en oro a unas elaboradas en plata.

**CON LA SIGUIENTE INFORMACIÓN  
RESPONDE LAS PREGUNTAS 4 Y 5**



- 4** La división de una ciudad en sectores permite, en términos administrativos,
- A. concentrar el poder político en la figura del alcalde.
  - B. delegar funciones a las entidades territoriales.
  - C. separar a las localidades para que hagan sus propias leyes.
  - D. promover la convivencia pacífica en la ciudad.
- 5** La imagen que se muestra corresponde a
- A. un mapa de los territorios más poblados.
  - B. las localidades más violentas de la ciudad.
  - C. un mapa político de la ciudad de Bogotá.
  - D. los pisos térmicos que tiene Bogotá.

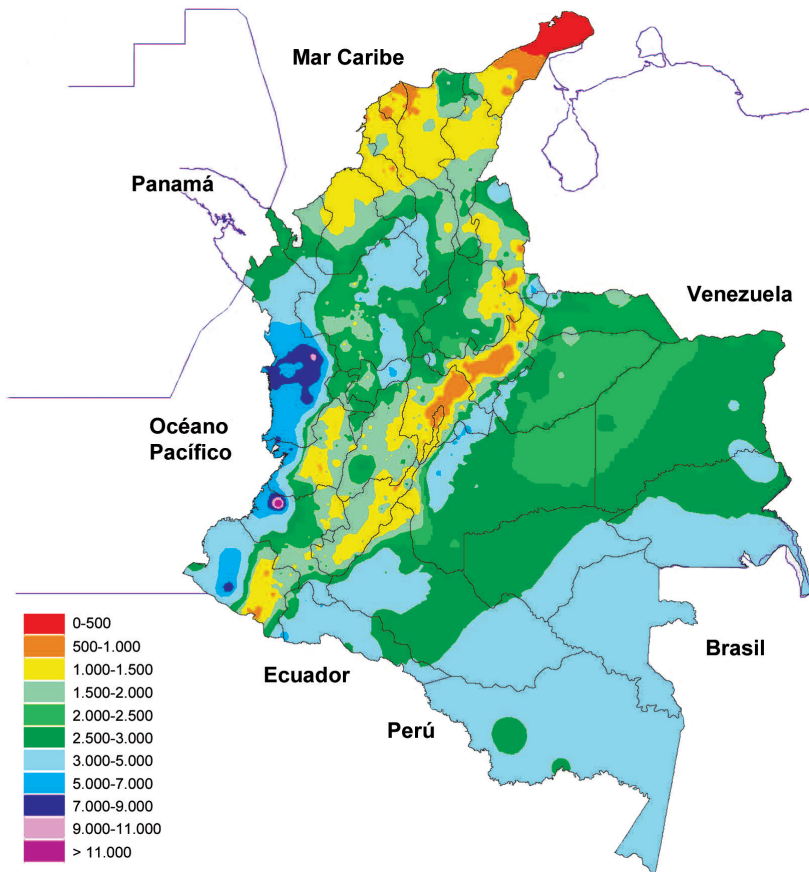
**CON LA SIGUIENTE INFORMACIÓN RESPONDE LAS PREGUNTAS 6 Y 7**



- 6** Si una persona ascendiera a pie, de la carretera pavimentada a la cumbre del kilómetro 3; tendría
- A. más capacidad para adaptarse al clima que hay por debajo de los 2625 m.
  - B. una sensación térmica alta, ya que a mayor altura aumenta la temperatura.
  - C. más dificultad al respirar, ya que hay menos oxígeno en la atmósfera.
  - D. una necesidad de protegerse, ya que los gases contaminantes se concentran a esa altura.
- 7** Según la imagen, se puede decir que el terreno del recorrido
- A. es una llanura extensa.
  - B. carece de pendientes.
  - C. es irregular y montañoso.
  - D. tiene volcanes inactivos.

**CON LA SIGUIENTE INFORMACIÓN  
RESPONDE LAS PREGUNTAS 8 Y 9**

Distribución de la precipitación media (milímetros) anual en Colombia.



(Fuente: <https://documentacion.ideam.gov.co/openbiblia/Bvirtual/000001/cap3-1.pdf>)

- 8 La zona donde se presentan mayores precipitaciones al año en Colombia es:
- A. Llanos orientales.
  - B. Región del Pacífico.
  - C. Amazonas.
  - D. Región Andina.
- 9 Al hacer una clasificación climática a partir de las precipitaciones anuales en la Guajira, se llegaría a la conclusión que
- A. hay presencia de nevados.
  - B. el clima es frío.
  - C. hay altas precipitaciones.
  - D. el clima es desértico.
- 10 A diferencia de la Constitución de 1886, la Constitución de 1991 determinó la descentralización y la autonomía de las entidades territoriales. Gracias a esto, las entidades territoriales pueden
- A. administrar sus propios recursos.
  - B. pedirle al gobierno administrar los recursos.
  - C. administrar un banco privado.
  - D. cobrar los impuestos que deseen.

**CON LA SIGUIENTE INFORMACIÓN  
RESPONDE LAS PREGUNTAS 11 Y 12**



(Fuente: <http://socialesielv.wordpress.com/periodo-1/>).

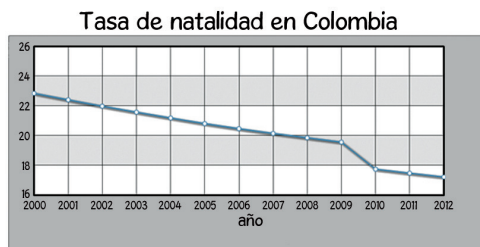
- 11** Siguiendo el mapa, la zonificación de las cuencas hidrográficas en Colombia se haría teniendo en cuenta
- la división política de los departamentos y ciudades de Colombia.
  - el territorio a través del cual un conjunto de ríos transporta el agua.
  - las fronteras terrestres con otros países que están demarcadas por ríos.
  - la vegetación y las precipitaciones anuales que tiene cada territorio.
- 12** La cuenca hidrográfica que se encuentra en el extremo occidental del país, es la cuenca del
- Pacífico.
  - Amazonas.
  - Catatumbo.
  - Orinoco.
- 13** Una de las zonas más importantes de producción de café comprende el territorio conocido como el Eje Cafetero, compuesto por los departamentos de Quindío, Caldas y Risaralda. La actividad de cultivo de café se encuentra ubicada en
- los planes de reforestación productiva.
  - el sector secundario de la economía.
  - las actividades de consumo y distribución.
  - el sector primario de la economía.

**CON LA SIGUIENTE INFORMACIÓN RESPONDE LAS PREGUNTAS 14 Y 15**

Después de cada ciclo de extracción que se presenta en el Pacífico -llámese oro, platino, tagua, caucho o madera- el deterioro del territorio y sus gentes se hace más evidente, más aún, cuando todos los beneficios obtenidos por los procesos de extracción se concentran en los grandes polos urbanos de “desarrollo”: Bogotá, Cali y Medellín, así como en las familias más poderosas de la Nación y, en la mayoría de los casos, van a parar en las arcas de las diferentes empresas extranjeras.

(Fuente: <http://webcache.googleusercontent.com/search?q=cache:kuG6TGIW4oMJ:www.releg.org/OSPINA.pdf+&cd=10&hf=es&ct=clnk&gl=co&client=firefox-a>).

- 14** Se puede explicar la situación extractiva del Pacífico diciendo que
- existen grandes beneficios económicos para la región, que han sido aprovechados.
  - las altas ganancias son utilizadas para conservar los ecosistemas que tiene el Pacífico.
  - hay bajas ganancias para la economía local, con altos costos para el medio ambiente.
  - se presentan condiciones de desarrollo en las ciudades gracias a sus economías.
- 15** Siguiendo la concepción de conservación del medio ambiente, el gobierno podría
- limitar las actividades extractivas en zonas frágiles del Pacífico.
  - promover en las comunidades la extracción industrial de los minerales.
  - pedirle a las ciudades que se benefician de la extracción, pago de impuestos.
  - comunicar a las comunidades las ganancias de las empresas extranjeras.
- 16** Observa la gráfica:



(Fuente: <http://www.indexmundi.com/g/g.aspx?c=co&v=25&l=es>).

Para construir la gráfica de la tasa de natalidad en Colombia se debió

- A. utilizar los datos que tienen que ver con el número de muertes al año.
- B. recoger información sobre el número de nacimientos en cada año en el país.
- C. tomar el número total de habitantes del país y dividirlo por todos los años.
- D. reunir datos sobre el número de nacimientos y multiplicarlo por todos los años.

**CON LA SIGUIENTE INFORMACIÓN  
RESPONDE LAS PREGUNTAS 17 A 20**

**Machu Picchu - La ciudadela inca**

La ciudadela inca de Machu Picchu está ubicada a 130 kilómetros al noroeste del Cusco, en la provincia de Urubamba, en la cresta del cerro Machu Picchu.

Cada vez que encontramos un lugar cuya historia escrita no existe, es muy grande la tentación de imaginar cómo era y quiénes eran los que allí vivían. Si imaginamos en su época de esplendor a la ciudadela inca Machu Picchu, pensamos en personas caminando por las calles y las plazas, sentados o haciendo ceremonias o usando vestidos con sus adornos.



Aunque, de esto ya no quedan testimonios vivos o escritos, todos sabemos que algo así pasaba en ese lugar.

La arqueología y la etnohistoria ayudan a responder esas y otras preguntas, pero tienen limitaciones. ¿Quiénes vivían en Machu Picchu y qué hacían? Si la idea de que fue el mausoleo (tumba) de Pachacutec Inca Yupanqui es válida, vale la pena saber cómo pudo ser construido ese lugar. El mausoleo del Inca estaba rodeado de templos, altares y otros espacios donde vivían la familia de Pachacutec, sus servidores y los que mantenían el culto. Si Machu Picchu fue la “casa” del Inca, debió estar construida durante su largo mandato a comienzos del siglo XV, unos 100 años antes de la llegada de los españoles.

Adaptado de: <http://www.machu-picchu.co/ciudad-inca-machu-picchu.html>

- 17** Siguiendo el texto, para introducir en la cultura a las nuevas generaciones, los incas podrían utilizar
- A. la pintura artística.
  - B. los textos escritos.
  - C. la tradición oral.
  - D. la biblia.
- 18** Cuando se lee sobre Machu Picchu, se puede ver una intención religiosa porque
- A. el cristianismo declaró la ciudadela como centro religioso.
  - B. la ciudadela se diseñó para hacer observaciones astronómicas.
  - C. algunas edificaciones se construyeron con fines de culto.
  - D. las relaciones con la naturaleza hacen parte de la cultura inca.

- 19** La arqueología ayuda a reconstruir el pasado de la civilización inca porque
- A.** permite tener una idea de la vida de la sociedad inca a través del análisis de las huellas materiales que dejó esta.
  - B.** se intenta escribir una historia a partir del pensamiento de los indígenas que viven actualmente en Machu Picchu.
  - C.** los historiadores recogen la información de las culturas indígenas a través del mecanismo de la entrevista.
  - D.** con relatos indirectos que provienen de los campesinos de Machu Picchu, se puede hacer un texto histórico.
- 20** Machu Picchu, simboliza la idea de poder, en tanto
- A.** las casas de los campesinos eran amplias y ventiladas.
  - B.** se estableció como el lugar donde vivía el emperador.
  - C.** allí se hacían intercambios de alimentos y artesanías.
  - D.** se hacían cultos religiosos en honor al dios Sol.



## RESPUESTAS

Pregunta	Respuesta
1	B
2	D
3	A
4	B
5	C
6	C
7	C
8	B
9	D
10	A
11	B
12	A
13	D
14	C
15	A
16	B
17	C
18	C
19	A
20	B